

Artikel 19

De bestuurder moet in staat zijn zijn voertuig tot stilstand te brengen binnen de afstand waarover hij de weg kan overzien en waarover deze vrij is.



Wat heeft de bovenstaande afbeelding nou met volgafstand te maken? Bedenk eens redenen waardoor je borden mist en ineens die wegversmalling er is?



Stel je hier eens voor dat je achter een tractor rijdt met een enorme aanhangwagen. Die tractor wil je graag inhalen. Op wiens begrafenis ben jij niet welkom als je inhaalde?



Voor jou rijdt een vrachtauto. Jij rijdt 15 meter achter die vrachtauto. Zie jij op tijd de voetgangersoversteekplaats?



Dit zie je.



Dit had je moeten zien.

Hoe korter de volgafstand, hoe meer je afhankelijk bent van de rijstijl van de voorganger.

Als de vrachtauto door rood rijdt, dan jij misschien ook.



Dit zie je.



Dit had je willen zien.

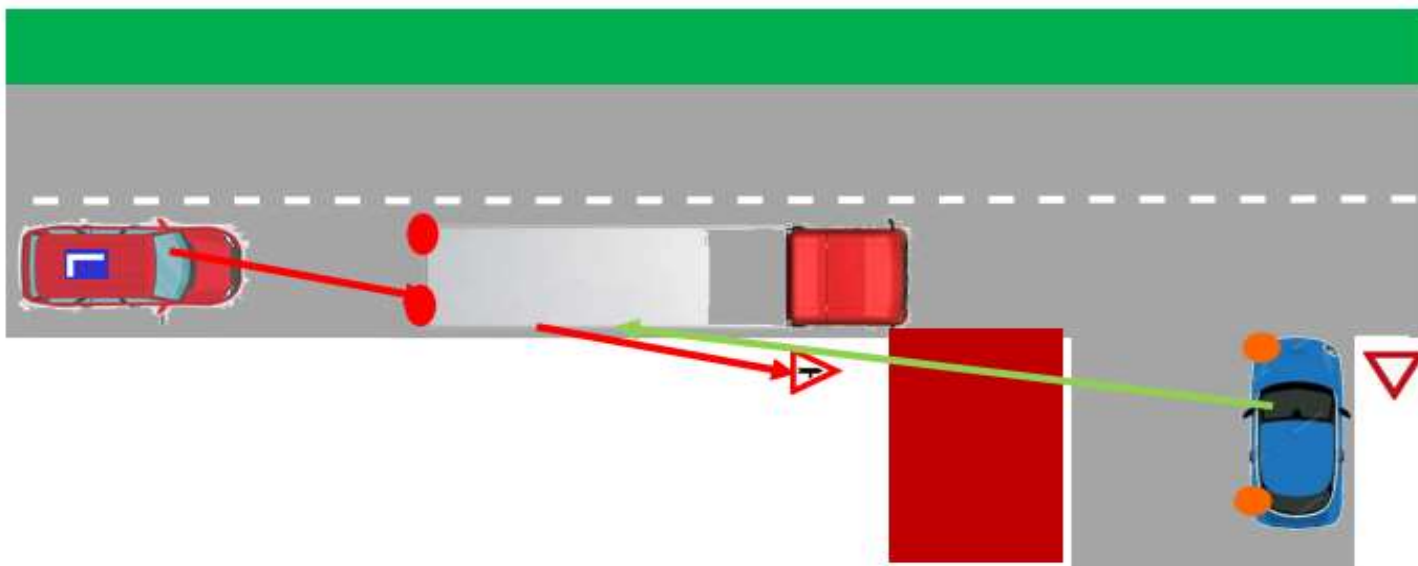


De middenmarkering is een doorgetrokken streep. Het is verboden om in te halen. Waarom heeft de wegbeheerder gemeend er een doorgetrokken streep van te moeten maken? De motorrijders vinden dat je er wel in kunt halen. Tussen plaatje 2 en plaatje 5 zit nog géén seconde. De man zal zijn overlijden niet bewust meemaken.

Bij plaatje 1 had de man moeten opmerken dat de weg naar rechts afbuigt. Bij plaatje 2 wordt zijn zicht volledig beperkt door de vrachtauto en is zichtbaar dat het kantelen is ingezet. Bij plaatje 3 is in een fractie van een seconde de tegenligger in beeld. Echter het menselijk oog, ook die van de stoere motorrijder, is te traag om de tegenligger op te merken.

Er zijn 2 toverwoorden die werken: 1. SIMSALABIM. 2. VOLGAFSTAND.

Wanneer jouw volgafstand maar groot genoeg is, zie je op tijd wat er voor je gebeurt, mis je geen borden, kun je altijd met maximaal toegestane snelheid een verkeerslicht naderen, kan een bumperklever veel minder brokken maken en ben jij niet afhankelijk van de rijstijl van de voorganger, want die kan niet rijden, omdat hij geen les van Ingrid heeft gehad.



Ziet de leerling het verkeersbord op tijd?

Komt de leerling wel in beeld bij de blauwe auto?

Als de vrachtauto niet remt, rijdt deze 50 km/ uur.

13,8889

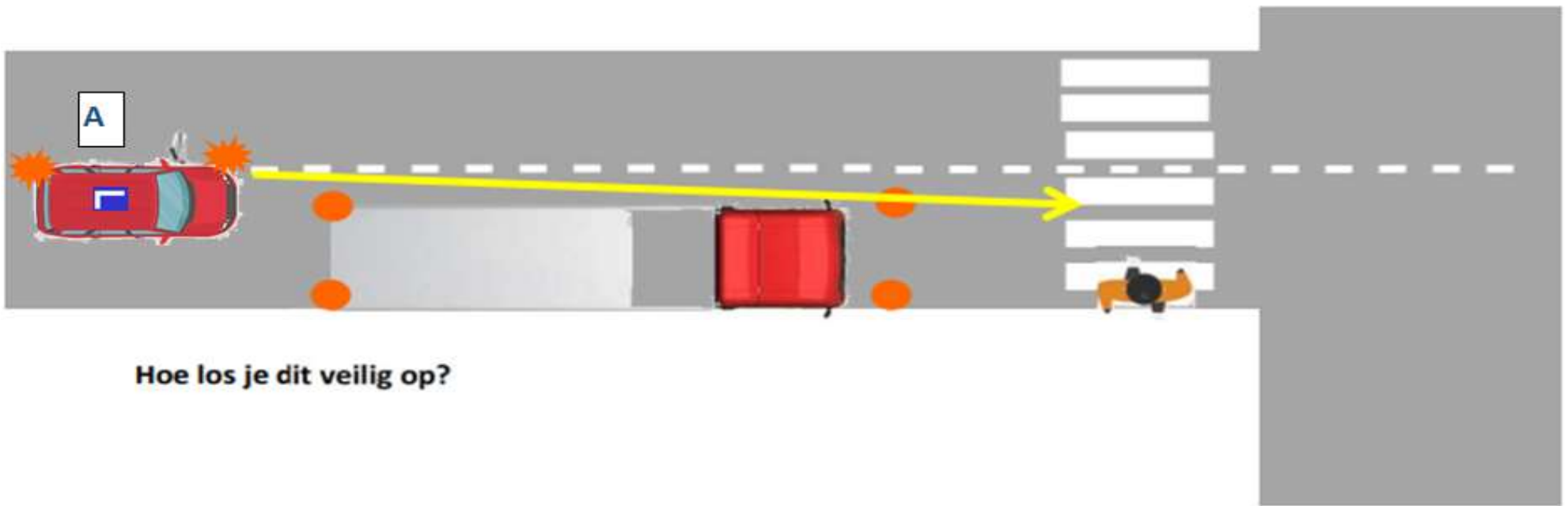
meter /seconde.

(Niet in mijn lesauto) Leerling rijdt ook 50 km/ uur.

De afstand tussen de lesauto en de vrachtauto is minder dan 13,8889 meter.

Zodra de vrachtauto de kruising voorbij is, duurt het minder dan 1 seconde voordat de lesauto ook de kruising voorbij is. Wat gebeurt er als de bestuurder in de blauwe auto denkt: Ná de vrachtauto kan ik?

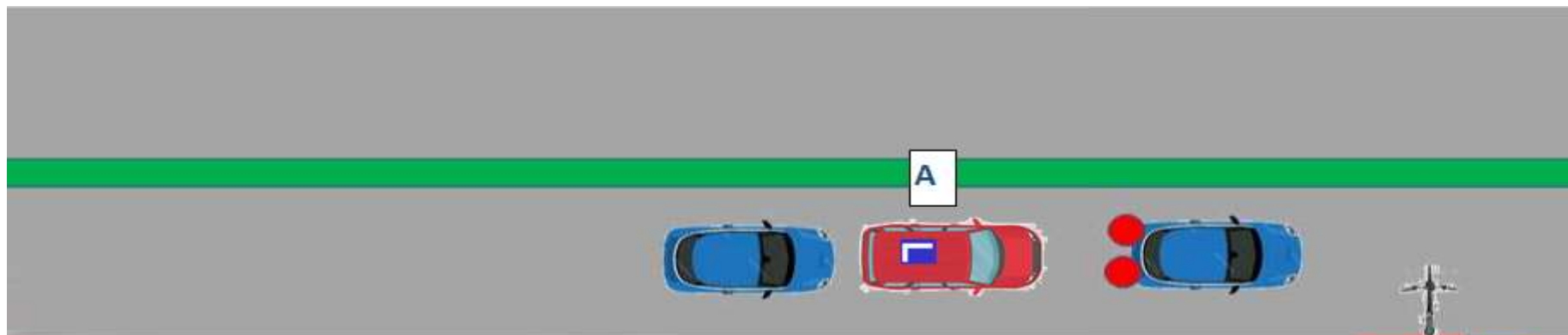
—
t de
—
nt o
—
de
—



Hoe los je dit veilig op?



Waarom krijgt leerling A een aanwijzing en leerling B een compliment.



Leerling A lest niet bij mij. Weet jij waarom die leerling niet bij mij lest.



Leerling B krijgt een compliment. De blauwe auto is een bumperklever. Hoe dichters je achter je rijden, hoe groter de volgafstand.
Kun je vertellen waarom dit een gouden regel is?



Zodra B bij het ding langs de weg is, dient bij B eenentwintig, tweentwintig gezegd kunnen hebben.

Bij 50 km/ uur is 2 seconden 28 meter.

Bij 100 km/ uur is 2 seconden 56 meter.

De rekensom:

Rij je 50 km/ uur, dan is dat 50.000 meter per 3.600 seconden. In één uur zitten 3.600 seconden. Dus $50.000 / 3.600 = 13,8889$ meter per seconde. Rond het af op 14 meter per seconde.

Bij 100 km/ uur = 2×14 meter per seconde = 28 meter per seconde. Zodra de voorganger het ding voorbij rijdt, begin je te tellen. Doe je er 2 seconden over voordat jij bij het ding bent, heb je 2×28 meter = 56 meter afgelegd.



Slecht weer leidt tot drukke ochtendspits.

Waarom een drukke ochtendspits bij slecht weer?

Welke 2 redenen kun je bedenken om bij slecht weer beduidend grotere volgafstand dan bij de 2 secondenregel in acht te nemen?



Zoek de betekenis van dit bord op?



Zoek de betekenis van dit bord op?



Zoek de betekenis van dit bord op?



Zoek de betekenis van dit bord op?



Zoek de betekenis van dit bord op?



Zoek de betekenis van dit bord op?



Zoek de betekenis van dit bord op?



Zodra je een dorp of stad binnenkomt, krijg je meestal een wegversmalling. Welk van de 2 borden zie je dan?

Welke waarschuwing op het wegdek krijg je voorafgaand aan de wegversmalling?

